

Compito Ottica preappello 04-06-2026

Modulo Farini, Form: **A**

Name: \_\_\_\_\_

Student Number: \_\_\_\_\_

TA: \_\_\_\_\_

Date: \_\_\_\_\_

### Section 1. Esercizi

Tempo complessivo 55 minuti

1. Data la seguente prescrizione per l'occhio destro espressa da una bicilindrica ad assi ortogonali

$$\begin{cases} -3.75 \times 50^\circ \\ +1.25 \times ??^\circ \end{cases}$$

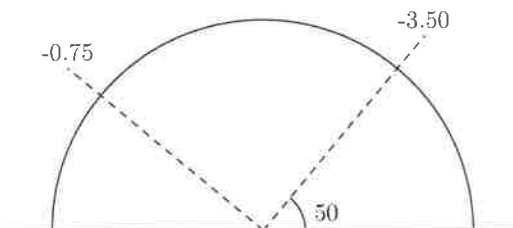
completare la prescrizione, disegnare il diagramma dei poteri e scrivere le due sferocilindriche equivalenti alla prescrizione data

2. Si ha la seguente prescrizione per l'occhio sinistro scritta nel sistema internazionale

$$+1.75 / +0.75 \times 160^\circ$$

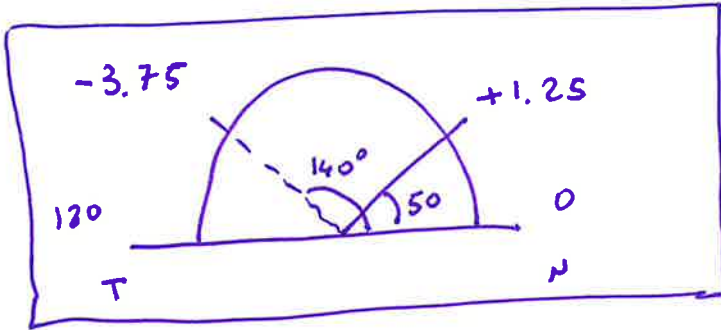
Disegnare il diagramma dei poteri nel sistema TABO. Scrivere la prescrizione in sistema TABO utilizzando una bicilindrica ad assi ortogonali. Scrivere una sferotorica equivalente alla prescrizione data avente come sfera di base  $+1.00 D$ , scrivendo la parte astigmatica come una sferocilindrica a cilindro positivo.

3. Un oggetto **reale** si trova a  $2.50 m$  di distanza di fronte ad una lente di prescrizione  $+1.75 / +0.25 \times 120^\circ$ . Dove si posizioneranno le linee focali ed il disco di minima confusione (approssimare al cm o al centesimo di diottria)?
4. Una persona indossa sull'occhio sinistro (sistema TABO) una lente sferica da  $-2.00$  diottrie. La lente viene decentrata di  $20 mm$  lungo l'asse a  $50^\circ$  verso la tempia. Di conseguenza il centro pupillare non si trova più dietro il centro ottico della lente. Quale effetto prismatico si sperimenta ora davanti al centro della pupilla? Calcolare poi gli effetti prismatici sui due assi  $x$  e  $y$ . (Approssimare i risultati al millimetro, al decimo di diottria prismatica e al grado)
5. Data una lente pianocilindrica sull'occhio destro di potere  $+3.00 \times 125^\circ$  (sistema TABO) calcolare l'effetto prismatico complessivo se una persona guarda  $20 mm$  a  $90^\circ$  verso il basso. (Arrotondare al decimo di diottria prismatica)
6. Dato il diagramma dei poteri sotto rappresentato, relativo a un occhio sinistro sistema TABO, scrivere le prescrizioni per una lente realizzata con una bicilindrica ad assi ortogonali e per le due sferocilindriche.



①

$$\begin{cases} -3.75 \times 50 \\ +1.25 \times 140 \end{cases} \quad \Delta$$



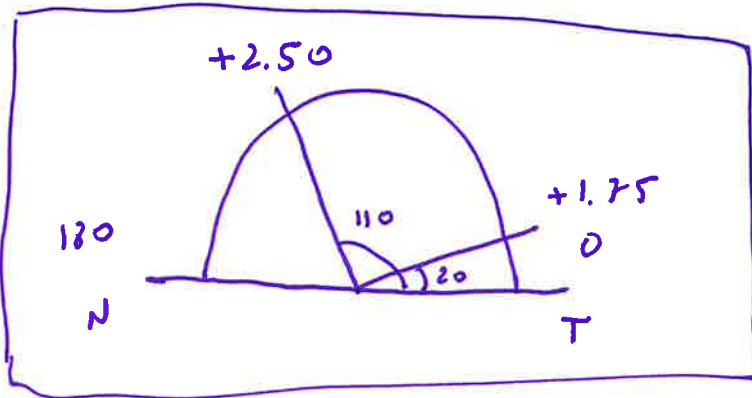
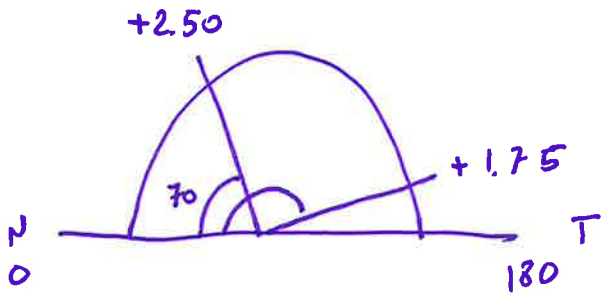
$$sf = -3.75 \quad -3.75 + ul = +1.25$$

$$ul = +3.75 + 1.25 = +5.00 \quad \Delta$$

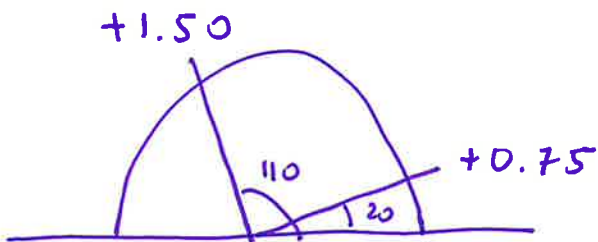
$$\begin{array}{l} -3.75 / +5.00 \times 140 \\ +1.25 / -5.00 \times 50 \end{array}$$

2

OSSI +1.75 / +0.75 x 160



$$\left\{ \begin{array}{l} +1.75 \times 110 \\ +2.50 \times 20 \end{array} \right.$$



$$\frac{+0.75 / +0.75 \times 20}{+1.00}$$

$$(3) \quad l = -2.50 \text{ m} \quad +1.75 / +0.25 \times 120$$

$$\frac{1}{l'} = \frac{1}{l} + \Phi$$

$$\Phi_{120^\circ} = +1.75 \Delta$$

$$\Phi_{30^\circ} = +2.00 \Delta$$

$$30^\circ \quad \frac{1}{l'_{30}} = -\frac{1}{2.50} + 2.00 = -0.40 + 2.00 = 1.60 \Delta$$

$$l'_{30} = \frac{1}{1.60} \approx 0.63 \text{ m}$$

$$120^\circ \quad \frac{1}{l'_{120}} = -\frac{1}{2.50} + 1.75 = -0.40 + 1.75 = 1.35 \Delta$$

$$l'_{120} = \frac{1}{1.35} \approx 0.74 \text{ m}$$

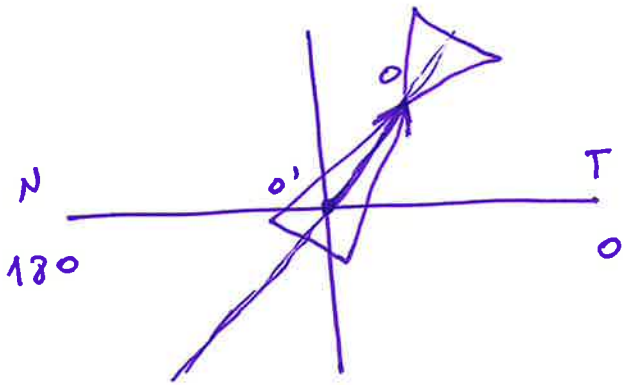
$$\frac{2}{l_{nc}} = \frac{1}{l'_{30}} + \frac{1}{l'_{120}} = 1.60 + 1.35 = 2.95$$

$$l_{nc} = \frac{2}{2.95} \approx 0.68 \text{ m}$$

④ OSST

$$\bar{\Phi} = -2.00$$

$d = 20 \text{ mm}$  a  $50^\circ$  verso la tempia

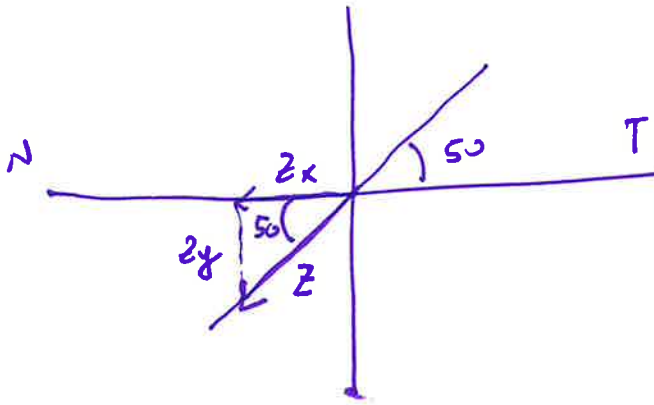


$$|Z| = 2 \cdot |-2.00| = 4.0 \Delta$$

$$Z = 4.0 \Delta \text{ a } 50^\circ \text{ BN}$$

$$|Z_x| = 4.0 \cdot \cos 50$$

$$|Z_x| \approx 2.6$$



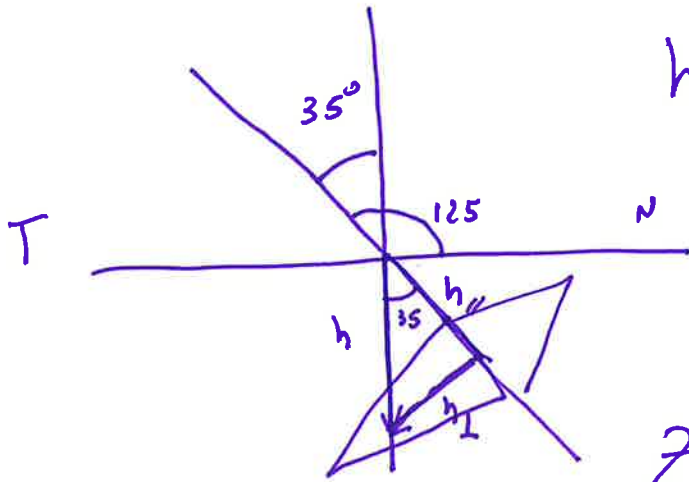
$$Z_x = 2.6 \Delta \text{ a } 180^\circ \text{ BN}$$

$$Z_y = 3.1 \Delta \text{ a } 90 \text{ BB}$$

OD

$$+ 3.00 \times 125$$

$h = 20 \text{ mm}$  a  $90^\circ$  verso il basso

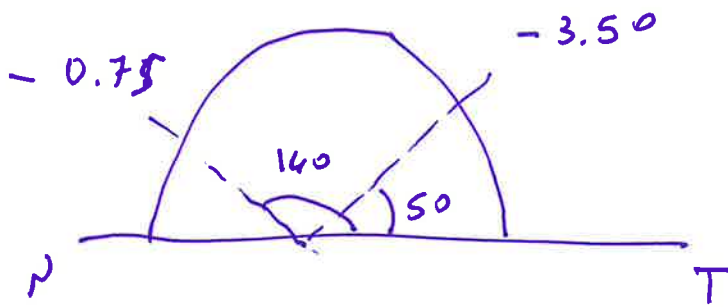


$$h_{\perp} = h \cdot \sin 35 \approx 11 \text{ mm}$$

$$|Z| = 1.1 \cdot 3.00 \approx 3.3 \Delta$$

$$Z = 3.3 \Delta \text{ a } 35^\circ \text{ BN}$$

6 OSST



$$\left\{ \begin{array}{l} -3.50 \times 140 \\ -0.75 \times 50 \end{array} \right.$$

$$\bar{0.75} + ul = -3.50$$

$$ul = -3.50 + 0.75 = -2.75 \Delta$$

$$\begin{array}{l} -0.75 / -2.75 \times 140 \\ -3.50 / +2.75 \times 50 \end{array}$$