

29-06-2020 BIS

Ottica
Modulo Farini, Form: A

Name: _____

Student Number: _____

TA: _____

Date: _____

Section 1. Esercizi

Tempo complessivo 55 minuti

1. Data la seguente prescrizione per l'occhio destro espressa da una bicilindrica ad assi ortogonali

$$\begin{cases} +2.75 \text{ X } 20^\circ \\ +1.75 \text{ X } ??^\circ \end{cases}$$

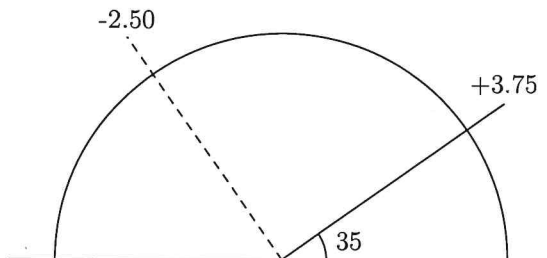
completare la prescrizione, disegnare il diagramma dei poteri e scrivere le due sferocilindriche equivalenti alla prescrizione data

2. Si ha la seguente prescrizione per l'occhio sinistro scritta nel sistema internazionale

$$+2.50 / +3.25 \text{ X } 40^\circ$$

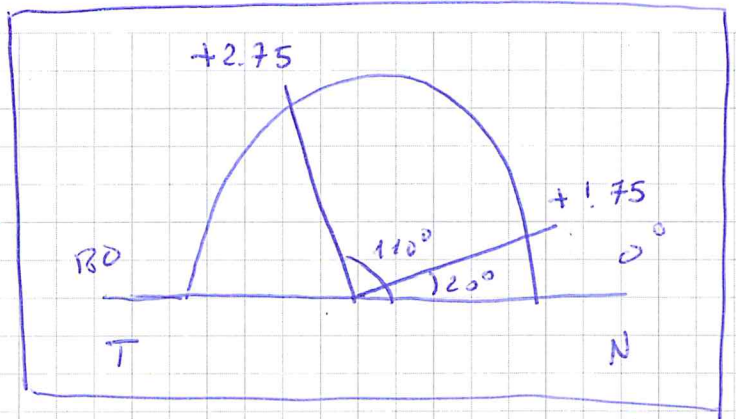
Disegnare il diagramma dei poteri nel sistema TABO. Scrivere la prescrizione in sistema TABO utilizzando una bicilindrica ad assi ortogonali. Scrivere una sferotorica equivalente alla prescrizione data avente come sfera di base $+1.50 \text{ D}$, scrivendo la parte astigmatica come una sferocilindrica a cilindro negativo.

3. Un oggetto **reale** si trova a 3.00 m di distanza di fronte ad una lente di prescrizione $+0.75 / +0.25 \text{ X } 30^\circ$. Dove si posizioneranno le linee focali ed il disco di minima confusione? (approssimare al cm o al centesimo di diottria)
4. Una persona indossa sull'occhio destro una lente sferica da -3.50 diottrie. La lente viene decentrata di 20 mm lungo l'asse a 40° verso la tempia. Di conseguenza il centro pupillare non si trova più dietro il centro ottico della lente. Quale effetto prismatico si sperimenta ora davanti al centro della pupilla? Calcolare poi gli effetti prismatici sui due assi x e y . (Approssimare i risultati al millimetro, al decimo di diottria prismatica e al grado)
5. Data una lente pianocilindrica sull'occhio sinistro di potere $+2.75 \text{ X } 140^\circ$ (sistema TABO) calcolare l'effetto prismatico complessivo se una persona guarda 10 mm verso il basso. (Arrotondare al decimo di diottria prismatica)
6. Dato il diagramma dei poteri sotto rappresentato, relativo a un occhio sinistro sistema TABO, scrivere le prescrizioni per una lente realizzata con una bicilindrica ad assi ortogonali e per le due sferocilindriche.



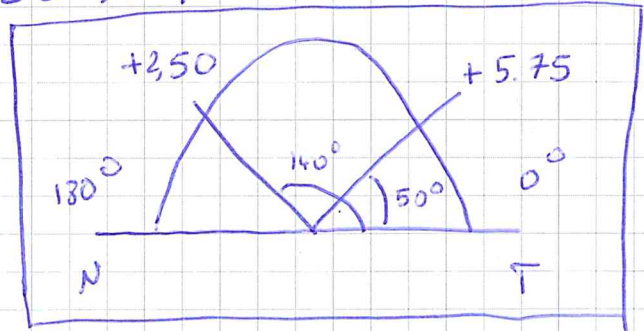
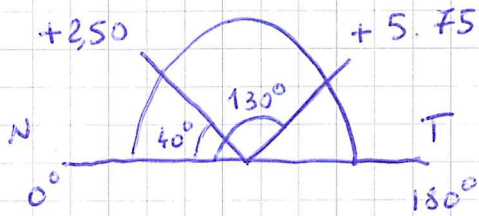
①

$$\begin{cases} +2,75 \times 20^\circ \\ +1,75 \times 110^\circ \end{cases}$$



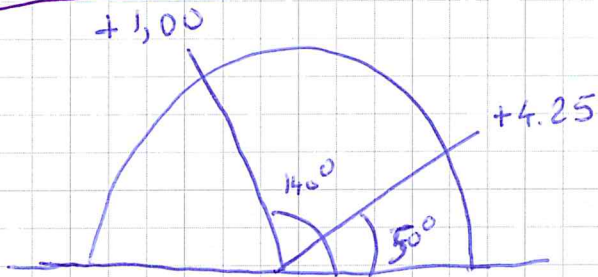
$$\begin{aligned} +2,75 / -1,00 \times 110^\circ \\ +1,75 / +1,00 \times 20^\circ \end{aligned}$$

② OSSI $+2,50 / +3,25 \times 40^\circ$



$$\left\{ \begin{array}{l} +5,75 \times 140^\circ \\ +2,50 \times 50^\circ \end{array} \right.$$

Sf base = $+1,50 \text{ D}$



~~+4,25~~ $+4,25 + X = +1,00$
 $X = -3,25 \text{ D}$

$$\frac{+4,25 / -3,25 \times 50^\circ}{+1,50}$$

$$\textcircled{3} \quad l = -3.00 \text{ m} \quad +0.75 / +0.25 \times 30^\circ$$

$$\overline{\Phi}_{30^\circ} = +0.75 \text{ D} \quad \overline{\Phi}_{120^\circ} = +1.00 \text{ D}$$

$$30^\circ \quad \frac{1}{l'_{30^\circ}} = -\frac{1}{3} + 0.75 = -0.33 + 0.75 = 0.42 \text{ D}$$

$$l'_{30^\circ} = \frac{1}{0.42} = 2.38 \text{ m}$$

$$120^\circ \quad \frac{1}{l'_{120^\circ}} = -\frac{1}{3} + 1 = 0.67 \text{ D}$$

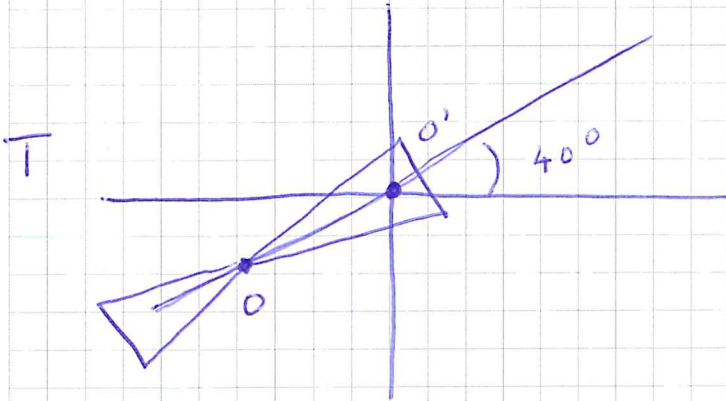
$$l'_{120^\circ} = \frac{1}{0.67} = 1.49 \text{ m}$$

$$\frac{2}{l_{mc}} = \frac{1}{l'_{30^\circ}} + \frac{1}{l'_{120^\circ}} = 0.67 + 0.42 = 1.09 \text{ D}$$

$$l_{mc} = \frac{2}{1.09} = 1.83 \text{ m}$$

OD

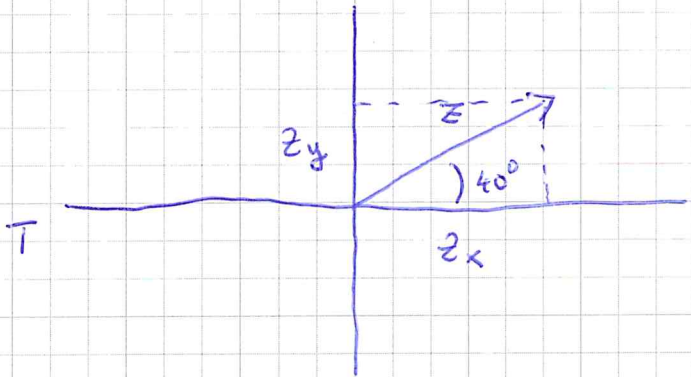
④ $\bar{\Phi} = -3.50 \Delta$ $d = 20 \text{ mm}$ a 40° verso la tempia



$$Z = d \cdot \bar{\Phi} = 2 \cdot 3.50 = 7.0 \Delta$$

N

$$Z = 7.0 \Delta \text{ a } 40^\circ \text{ BN}$$



$$Z_x = Z \cdot \cos 40^\circ = 5.4 \Delta$$

$$Z_x = 5.4 \Delta \text{ a } 180^\circ \text{ BN}$$

$$Z_y = Z \cdot \sin 40^\circ = 4.5 \Delta$$

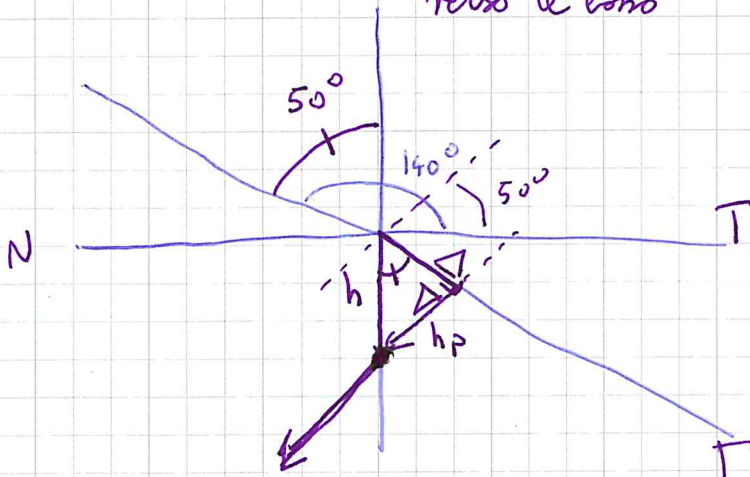
$$Z_y = 4.5 \Delta \text{ a } 90^\circ \text{ BA}$$

5

OS

$h = 10 \text{ mm}$
 verso il basso

$$\bar{\Phi}_c = + 2.75 \times 140^\circ$$



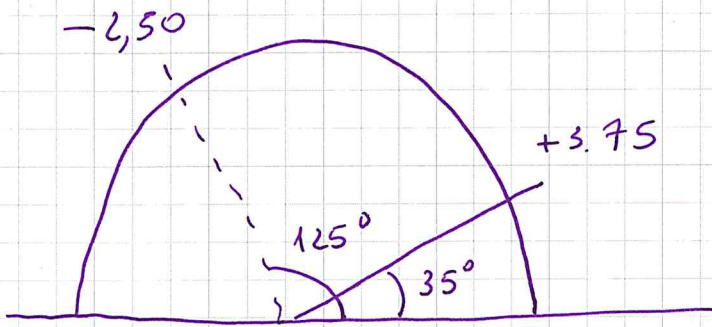
$$h_p = h \cdot \sin 50^\circ \approx 0.8 \text{ mm}$$

$$z = h_p \cdot 2.75 = 2.1 \Delta$$

$$z = 2.1 \Delta \text{ a } 50^\circ \text{ BT}$$

OSST

6



$$\left\{ \begin{array}{l} +3,75 \times 125^\circ \\ -2,50 \times 35^\circ \end{array} \right.$$

$$+3,75 + x = -2,50$$

$$x = -2,50 - 3,75 = -6,25 \text{ D}$$

$$\begin{array}{l} +3,75 / -6,25 \times 35^\circ \\ -2,50 / +6,25 \times 125^\circ \end{array}$$